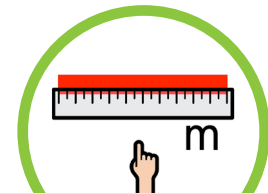


# Entfernungen schätzen (a)

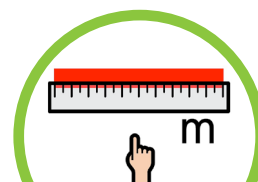
Wie weit sind die Gegenstände entfernt? Schreibe auf!



Was?	Wie weit weg? (cm, m)

## Entfernungen schätzen (b)

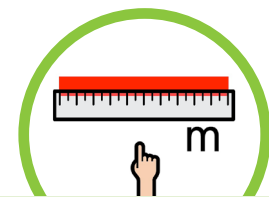
Wie weit sind die Gegenstände entfernt? Kreuze an!



Was?	Wie weit weg? (cm, m)							
	50 cm	1 m	2 m	3 m	5 m	10 m	20 m	30 m

## Entfernungen von Verkehrsmitteln einschätzen (a)

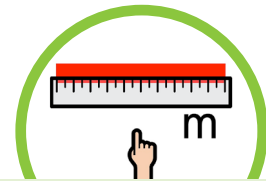
Wie weit sind die Verkehrsmittel entfernt? Schreibe auf!



Was?	Wie weit weg? (cm, m)

### Entfernungen von Verkehrsmitteln einschätzen (b)

Wie weit sind die Verkehrsmittel entfernt? Kreuze an!



Was?	Wie weit weg? (cm, m)							
	50 cm	1 m	2 m	3 m	5 m	10 m	20 m	30 m

